

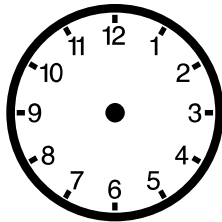
Name:

Klasse:

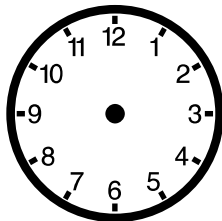
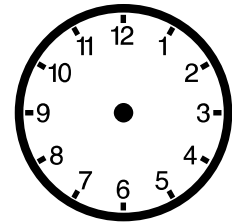
Datum:

Rechnen mit Uhrzeiten

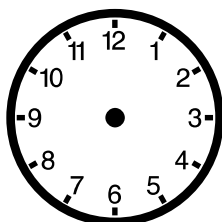
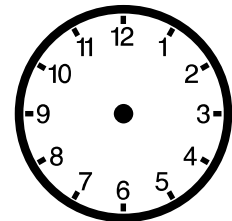
Lies den Text und trage die Start- und End-Uhrzeit ein.



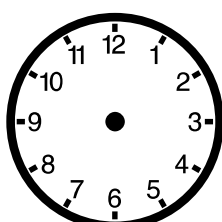
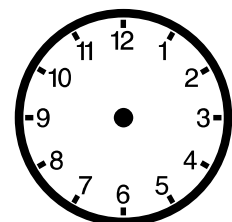
Steffi macht sich um 7:10 Uhr auf den Weg zur Schule. Sie fährt mit dem Bus zur Schule und kommt um 7:40 Uhr an.



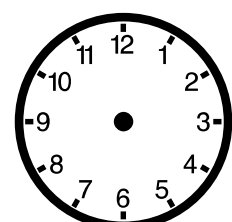
Martin trifft sich um 15:15 Uhr mit Sven im Zoo. Dort gucken sie sich die Tiere an und gehen um 17:20 Uhr wieder nach Hause.



Ulf bringt sein Auto um 8:30 Uhr in die Werkstatt. Er kann es schon nach zwei Stunden und zehn Minuten wieder abholen.



Franzi fliegt mit dem Flugzeug in den Urlaub. Sie fliegt um 22:35 Uhr los und kommt elf Stunden und fünf Minuten später an.



Name:


Klasse:

Datum:

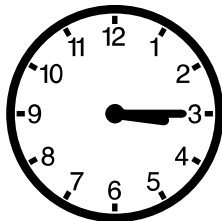

Lösung

Rechnen mit Uhrzeiten



Lies den Text und trage die Start- und End-Uhrzeit ein.





Steffi macht sich um 7:10 Uhr auf den Weg zur Schule. Sie fährt mit dem Bus zur Schule und kommt um 7:40 Uhr an.



Martin trifft sich um 15:15 Uhr mit Sven im Zoo. Dort gucken sie sich die Tiere an und gehen um 17:20 Uhr wieder nach Hause.



Ulf bringt sein Auto um 8:30 Uhr in die Werkstatt. Er kann es schon nach zwei Stunden und zehn Minuten wieder abholen.



Franzi fliegt mit dem Flugzeug in den Urlaub. Sie fliegt um 22:35 Uhr los und kommt elf Stunden und fünf Minuten später an.

